



Test de evaluare

UNITATEA DE ÎNVĂȚARE: *Elemente de geografie a orizontului apropiat și local*

1. Notează cu **X** răspunsurile corecte:

- Partea de cer și de pământ pe care o cuprindem cu privirea, până la linia orizontului, alcătuiește:

- locul natal ;
- orizontul .

- Linia de jur-împrejurul nostru, unde ni se pare că cerul atinge pământul se numește:

- linia orizontului
- linia orizontală

- Dacă privești linia orizontului de pe o culme a Rezervației naturale ROSPA0009 veți constata că spațiul cuprins cu privirea:



- se modifică în funcție de poziția celui care observă și de înălțimea punctului de observație.
- rămâne același pe toată durata deplasării.




2. Realizează corespondența între cele două coloane :

- | | |
|---|--------------|
| ■ Altarul bisericii din localitate este orientat către | nord. |
| ■ Soarele apune în partea de | sud. |
| ■ Sălciile cresc mai aplecate în partea de | est. |
| ■ Vegetația care acoperă Dealurile Beștepe este mai rară spre | vest. |

3. Citește textul de mai jos, apoi transcrie-l, înlocuind cuvintele subliniate cu semnele convenționale corespunzătoare:



Casa mea se află într-o comună din Delta Dunării. În apropiere curge fluviul Dunărea . Din păcate, nu s-a construit niciun pod peste această importantă apă curgătoare. Adesea călătoresc către litoralul Mării Negre cu trenul, care se deplasează pe calea ferată.



4. Notează cu A (adevărat) propozițiile adevărate și cu F (fals) propozițiile false:

- Mușchiul de pe trunchiul copacilor indică sudul. (.....)
- Mușuroaiele de furnici și de cârțiță sunt mai umede în partea ce indică nordul. (....)



➤ Doar pe teritoriul rezervației naturale ROSPA0009 trăiește șarpele boa de nisip.(.....)

5. Completează enunțurile:

* Rezervația naturală ROSPA0009 se întinde pe teritoriul localităților și

*sunt cinci coline cu înălțimi de maxim 242m.

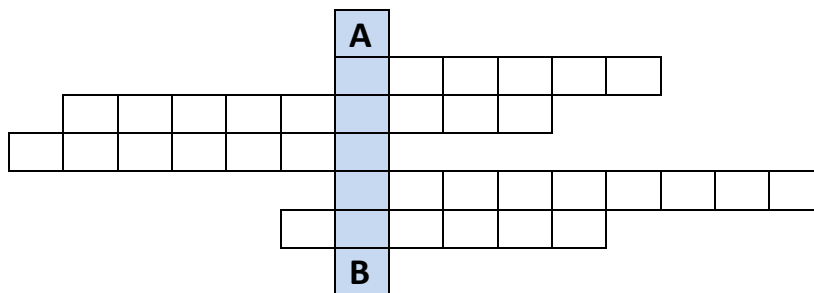


* „Colinele Mahmudiei” sunt mărginite de Brațul Sf.Gheorghe al Dunării în partea de..... și de.....



6. Completează rebusul răspunzând corect la cerințele de mai jos. Pe vertical vei obține un cuvânt de apreciere.

1. Instrumentul cu ajutorul căruia ne orientăm atunci când suntem în natură este...
2. Harta este o reprezentare a unei suprafețe mai mari sau mai mici de pământ.
3. Scara hărții este precizată în
4. și animalele diferă de la o zonă de relief la alta.
5. Steauaindică nordul.



Rezolvare: BUSOLA, MICȘORATĂ, LEGENDA, VEGETAȚIA, POLARĂ.

Competențe vizate:

- * localizarea anumitor obiective din localitatea natală ;
- * identificarea principalelor forme de relief din orizontul local ;
- * orientarea în orizontul imediat și apropiat, având ca reper punctele cardinale sau indicii oferite de natură;
- * recunoașterea vecinilor localității natale;
- * recunoașterea unităților de relief din localitatea natală;
- * orientarea pe hartă;
- * utilizarea limbajului științific (termeni geografici).

DESCRIPTORI DE PERFORMANȚĂ

ITEM	FOARTE BINE	BINE	SUFICIENT
1.	- formulează trei răspunsuri corecte, cu precizie, fără ezitări;	- formulează două răspunsuri corecte;	- formulează un răspuns corect;
2.	- realizează corect corespondența pentru patru sarcini formulate;	- realizează corespondența pentru trei din cele patru sarcini formulate;	- realizează corect corespondența pentru două din cele patru sarcini formulate;
3.	- rescrie textul înlocuind cele cinci cuvinte/expresii subliniate cu semnele convenționale corespunzătoare;	-rescrie textul înlocuind trei cuvinte/expresii subliniate cu semnele convenționale corespunzătoare;	-rescrie textul înlocuind două cuvinte/expresii subliniate cu semnele convenționale corespunzătoare;
4.	- stabilește corect valoarea de adevăr a enunțurilor date;	- stabilește corect valoarea de adevăr la două enunțuri dintre cele trei enunțuri date;	- stabilește corect valoarea de adevăr a unui enunț;
5.	- completează enunțurile lacunare cu termenii corespunzători;	- completează enunțurile lacunare cu 3 termeni corespunzători;	- completează enunțurile lacunare cu 1-2 termeni corespunzători;
6.	- completează corect cele 5 definiții ale rebusului;	-completează corect trei definiții ale rebusului;	-completează corect două definiții ale rebusului.

Liceul Tehnologic „Vasile Bacalu ” Mahmudia

Jud. Tulcea
CLASA a IV-a