

TEST DE EVALUARE (TEST 2)

Harta orizontului local / Caracteristici geografice ale orizontului local

1. Privește imaginile și răspunde la următoarele întrebări:



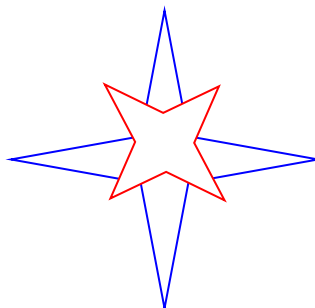
1



2

- Cum se numește linia roșie din prima imagine ?
- Cum se numește spațiul dintre cele două linii albe din imaginea a doua?
- Cum se numesc părțile principale ale orizontului?

2. Completează roza vânturilor:

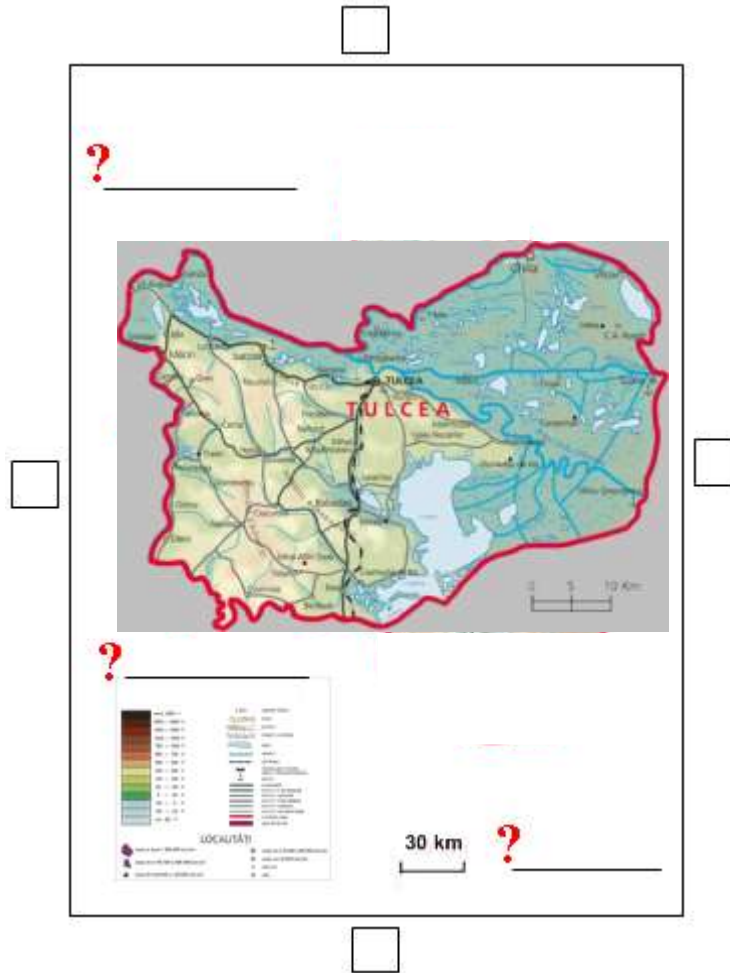


3. Scrie **A** (adevărat) sau **F** (fals) în dreptul enunțurilor:

- Soarele răsare la vest și apune la est. _____
- Harta este reprezentarea mult micșorată a unor suprafețe foarte mari. _____
- Prin semnele și culorile convenționale se reprezintă pe hartă obiecte din natură. _____
- Mediul geografic nu influențează viața oamenilor. _____
- Busola este un instrument cu ajutorul căruia se stabilește sudul (S). _____

f) Nordul (N) se mai numește și miazănoapte. _____

4. Privește cu atenție harta de mai jos și rezolvă cerințele:



a) Scrie în căsuțe punctele cardinale așa cum ai învățat că se scriu ele pe hartă.

b) Completează spațiile libere cu componentele hărții.

c) Notează distanța de la Mahmudia la Tulcea. _____

5. Scrie în ce punct cardinal, față de Mahmudia, se află:

a) comuna Beștepe _____

b) comuna Murighiol _____

c) lacul Gorgova _____



6. *Completează spațiile libere:*

- a) Localitatea în care locuiesc se numește _____.
- b) Ea este așezată pe malul fluviului _____, în partea de _____ a județului _____.
- c) Județul meu este așezat în partea de _____ a României.
- d) Formele de relief întâlnite în jurul comunei mele sunt _____ și _____.

Obiective operaționale:

O1- să completeze corect enunțuri lacunare cu noțiuni geografice corespunzătoare astfel încât propozițiile să fie adevărate;

O2- să fixeze corect pe harta județului Tulcea și pe roza vânturilor punctele cardinale / punctele intercardinale;

O4- să definească noțiuni geografice răspunzând la întrebări;

O5- să stabilească valoarea de adevăr a unor enunțuri date ;

O6- să demonstreze că știe să se orienteze în spațiu, având ca reper un punct cardinal;

DESCRIPTORI DE PERFORMANȚĂ

<i>ITEM</i>	<i>FOARTE BINE</i>	<i>BINE</i>	<i>SUFICIENT</i>
1.	- formulează cele trei răspunsuri corecte, cu precizie, fără ezitări ;	- formulează două răspunsuri corecte;	- formulează un răspuns corect;
2.	- fixează corect pe roza vânturilor punctele cardinale/ intercardinale;	- fixează corect pe roza vânturilor 5-6 puncte cardinale/ intercardinale	- fixează corect pe roza vânturilor 3-4 puncte cardinale/ intercardinale;
3.	-stabilește corect valoarea de adevăr a enunțurilor date;	- stabilește corect valoarea de adevăr pentru 5 enunțuri;	- stabilește corect valoarea de adevăr pentru 4 enunțuri;
4.	- rezolvă corect cele opt sarcini;	- rezolvă corect 6-7 sarcini;	- rezolvă corect 4-5 sarcini;
5.	- fixează corect poziția celor trei localități față de localitatea natală;	-fixează corect poziția a două localități față de localitatea natală;	-fixează corect poziția unei localități față de localitatea natală;
6.	- completează enunțurile lacunare cu termenii corespunzători;	- completează enunțuri lacunare cu 4-5 termeni corespunzători;	completează enunțuri lacunare cu 3 termeni corespunzători.

Școala Generală cu clasele I-VIII Beștepe
jud. Tulcea
CLASA aIV-a

TEST DE EVALUARE (TEST 2)

Harta orizontului local / Caracteristici geografice ale orizontului local

7. Privește imaginile și răspunde la întrebări:



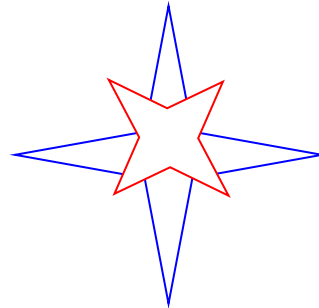
1



2

- a) Scrie cum se numește linia roșie din prima imagine ?
- b) Cum se numește spațiul dintre cele două linii albe din imaginea a doua?
- c) Cum se numesc părțile principale ale orizontului?

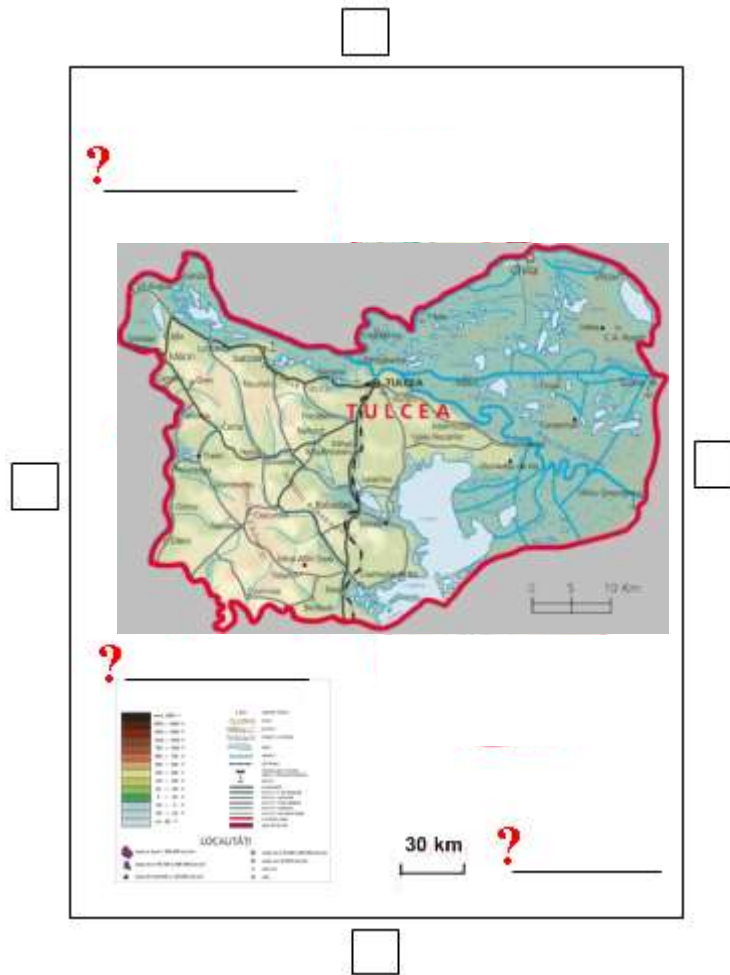
8. Completează roza vânturilor:



9. Scrie **A** (adevărat) sau **F** (fals) în dreptul enunțurilor:

- a) Soarele răsare la vest și apune la est. _____
- b) Harta este reprezentarea mult micșorată a unor suprafețe foarte mari. _____
- c) Prin semnele și culorile convenționale se reprezintă pe hartă obiecte din natură. _____
- d) Mediul geografic nu influențează viața oamenilor. _____
- e) Busola este un instrument cu ajutorul căruia se stabilește sudul (S). _____
- f) Nordul (N) se mai numește și miazănoapte. _____

10. Privește cu atenție harta de mai jos și rezolvă cerințele:



- Scrive în căsuțe punctele cardinale așa cum ai învățat că se scriu ele pe hartă.
- Completează spațiile libere cu componentele hărții.
- Notează distanța de la Beștepe la Tulcea. _____

11. Scrie în ce punct cardinal, față de Beștepe se află:

- comuna Mahmudia _____
- satul Victoria _____
- lacul Gorgova _____



12. Completează spațiile libere:

- a) Localitatea în care locuiesc este _____.
- b) Ea este aşezată la poalele _____ , în partea de _____ a judeţului _____.
- c) Judeţul meu este aşezat în partea de _____ a României.
- d) Formele de relief întâlnite în jurul comunei mele sunt _____ şi _____ .

Obiective:

O1- să completeze corect enunţuri lacunare cu noţiuni geografice corespunzătoare astfel încât propoziţiile să fie adevărate;

O2- să fixeze corect pe harta judeţului Tulcea şi pe roza vânturilor punctele cardinale / punctele intercardinale;

O4- să definească noţiuni geografice răspunzând la întrebări;

O5- să stabilească valoarea de adevăr a unor enunţuri date ;

O6- să demonstreze că ştie să se orienteze în spaţiu având ca reper un punct cardinal;

DESCRIPTORI DE PERFORMANŢĂ

ITEM	FOARTE BINE	BINE	SUFICIENT	Punctaj
1.	- formulează cele trei răspunsuri corecte, cu precizie, fără ezitări ;	- Formulează două raspunsuri corecte	- Formulează un răspuns corect	3 x 4p. = 12 p.
2.	- fixează corect pe roza vânturilor punctele cardinale/ intercardinale	- fixează corect pe roza vânturilor punctele cardinale/ intercardinale cu trei ezitări	- fixează corect pe roza vânturilor punctele cardinale/ intercardinale cu patru ezitări	8 x 2,5p. =20p.
3.	-stabileşte corect valoarea de adevăr a enunţurilor date	- stabileşte corect valoarea de adevăr la 5 enunţuri dintre cele 6 enunţuri date	- stabileşte corect valoarea de adevăr la 4 enunţuri dintre cele 6 enunţuri date	6 x 2p. = 12p.
4.	- rezolvă corect cele opt sarcini	- rezolvă corect 6-7 sarcini	- rezolvă corect 4-5 sarcini	8 x 0,75 p = 26p.
5.	- fixează corect poziţia celor trei localităţi faţă de localitatea natală	-fixează corect poziţia a două localităţi faţă de localitatea natală	-fixează corect poziţia unei localităţi faţă de localitatea natală	3 x 3p. = 9p.
6.	- completează enunţurile lacunare cu termenii	- completează enunţuri lacunare cu termenii corespunzători ,având 2	completează enunţuri lacunare cu termenii corespunzători ,având	7 x 3p. = 21p.

	corespunzători	ezițări	3 ezițări	
--	----------------	---------	-----------	--

Notă:

*Calificativul Foarte bine primesc elevii care au obținut între 90 și 100 de puncte ;

*Calificativul Bine primesc elevii care au obținut între 70 și 89 de puncte;

*calificativul Suficient primesc elevii care au obținut între 50 și 69 ;

*Calificativul Insuficient primesc elevii care au obținut sub 50 de puncte.